



Adı Soyadı:

28/01/2022

Sınıfı :

ZEKA VE DİKKAT TEST 7,8,9

28.01.2022

TEST 7

1.



Yukarıdaki her harf bir şekille gösterilmiştir. Buna göre "YETENEK" sözcüğü aşağıdakilerden hangisidir?

- A)
- B)
- C)

2.



Yukarıdaki her harf bir şekille gösterilmiştir. Buna göre "ŞAİR" sözcüğü aşağıdakilerden hangisidir?

- A)
- B)
- C)

3.



Yukarıdaki her harf bir rakamla gösterilmiştir. Buna göre "YALÇIN" sözcüğü hangisidir?

- A) 5 3 6 4 1 7
- B) 5 3 4 5 3 7
- C) 4 3 5 7 3 4

4.



Yukarıdaki her şekil bir rakamla gösterilmiştir. Buna göre "293" aşağıdakilerden hangisidir?

- A)
- B)
- C)



Aşağıdaki "●", "●" şeklinde belirtilen sütünlardaki sayılar bir kuralla oluşturulmuştur. Buna göre 5, 6, 7 ve 8. soruları tabloya göre cevaplayınız.

●	●
11	8
13	10
15	12
17	?

5. Bu kurallara göre "?" yerine hangi sayı gelmelidir?

- A) 14 B) 20
C) 21

6. ● = 25 iken "●" yerine hangi sayı gelmelidir?

- A) 21 B) 22
C) 23

7. ● = 28 iken "●" yerine hangi sayı gelmelidir?

- A) 25 B) 29
C) 31

8. Hangi sayı ikilisi tablodaki kurallara uymaz?

- A) 21 - 18
B) 27 - 25
C) 29 - 26



TEST 8

1, 2, 3 ve 4. soruları aşağıdaki işlem tablosuna göre cevaplayınız.

+	6	4	0
5			
1			
7			

1. Tabloya göre " + + " işleminin sonucu kaçtır?

A) 27

B) 25

C) 21

3. " - " işleminin sonucu aşağıdakilerden hangisinin sonucu ile aynıdır?

A) + +

B) +

C) - +

2. " " iki basamaklı sayısının basamaklarındaki rakamlar yer değiştirdiğinde oluşan sayıda kaç onluk bulunur?

A) 57

B) 70

C) 50

4. " $11 + 2$ " işlemini aşağıdakilerden hangisi ile aynı sonucu verir?

A) - +

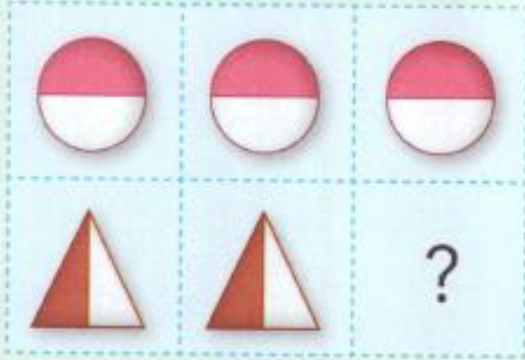
B) + +

C) - +



5, 6, 7 ve 8. sorularda "?" yerine hangisi gelmelidir?

5.



A)



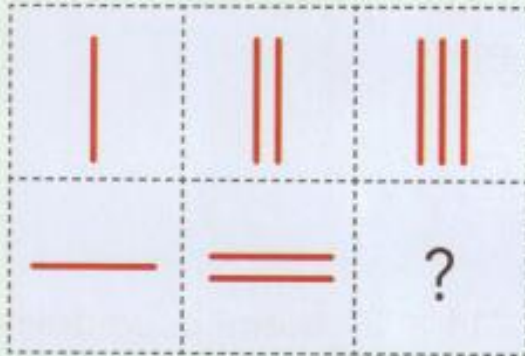
B)



C)



6.



A)



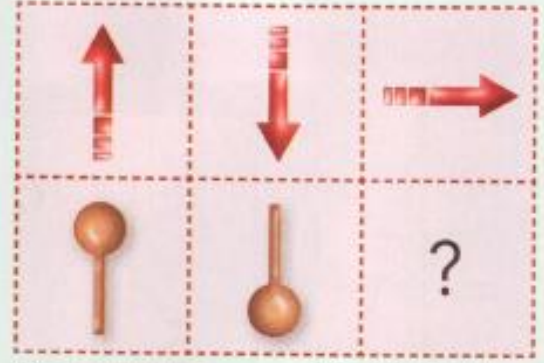
B)



C)



7.



A)




B)



C)



8.



A)



B)



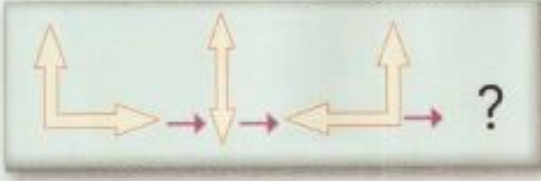
C)



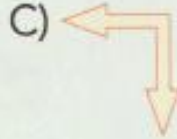
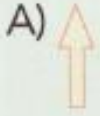


TEST 9

1.



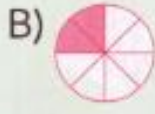
Yukarıdaki şekillerin diziliş kuralına göre, "?" yerine hangisi gelmelidir?



2.



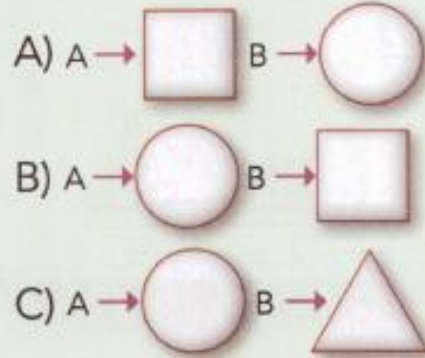
Yukarıdaki şekillerin diziliş kuralına göre, 4. şekil hangisi olmalıdır?



3.



Yukarıdaki tabloda şeklin diziliş kuralına göre A ve B olarak verilen boşluklara hangi şekiller gelmelidir?





4, 5 ve 6. sorularda varlıklar verilmiştir. Bu varlıkların adlarındaki sesli harfler aşağıdakilerden hangisinde verilmiştir?

4.



- A) a - ı B) e - i
C) a - i

5.



- A) a - i B) e - ı
C) e - i

6.






- A) u - a B) u - e
C) u - i

7, 8 ve 9. sorulardaki görsellerin ilişkili olduğu seçenekler bulunuz.




7.



- A)  B) 
C) 



8.



- A)  B) 
C) 

9.



- A)  B) 
C) 